




ପାଠ-୧୪

# କିଏ ଭାରୀ କିଏ ହାଲୁକା ଜାଣିବା




## ଉଠାପକା ଖେଳ :

ମାଙ୍କଡ଼, ଛେଳି ଓ ବିଲେଇମାନଙ୍କ ମଧ୍ୟରେ ଉଠାପକା ଖେଳ ଚାଲିଛି ।



ମାଙ୍କଡ଼ଟି ଦୌଡ଼ି ଆସି ଗୋଟିଏ ପଟରେ ବସିଲା ।  
ସେ ବସିଥିବା ପାଖଟି ତଳକୁ ନଇଁଗଲା ।  
ଅନ୍ୟମାନଙ୍କୁ ଭାଜି କହିଲା, “କିଏ ମୋତେ ଉପରକୁ ଉଠାଇ ପାରିବ ?”

ଏହା ଶୁଣି ବିଲେଇମାନେ ଦୌଡ଼ିଲେ । ପ୍ରଥମେ ଗୋଟିଏ ବିଲେଇ ଯାଇ ଅନ୍ୟ ପଟେ ବସିଲା । କିନ୍ତୁ ଉଠାପକା ଖେଳରେ ପଟାଟି ସମାନ ହେଲା ନାହିଁ । ମାଙ୍କଡ଼ ଥିବା ପଟଟି ତଳକୁ ନଇଁଗଲା ।



**ଏବେ କହ :**  
ମାଙ୍କଡ଼ ବସିଥିବା ପଟଟି କାହିଁକି ତଳକୁ ନଇଁଗଲା ?



ପୁଣି ଆଉ ଦୁଇଟି ବିଲେଇ ଆସି ପଟାର ଅନ୍ୟପାଖରେ ବସିପଡ଼ିଲେ ।



ଏବେ ମାଙ୍କଡ଼ ବସିଥିବା ପାଖ ଓ ବିଲେଇମାନେ ବସିଥିବା ପାଖ ଭୂମିଠାରୁ ସମାନ ଉଚ୍ଚତାରେ ରହିଲା ।

ପଟାର ଗୋଟିଏ ପଟେ ମାଙ୍କଡ଼ ଓ ଅନ୍ୟପଟେ ତିନୋଟି ବିଲେଇ ବସିବାରୁ ପଟାଟି ଭୂମିଠାରୁ ସମାନ ଉଚ୍ଚତାରେ ରହିଲା କାହିଁକି ?



ଏହା ପରେ ଛେଳି ଆସି ବସିଲା । ସେ ବସିଥିବା ପାଖଟି ତଳକୁ ନଇଁଗଲା । ମାଙ୍କଡ଼ ହଠାତ୍ କହିପକାଇଲା,-  
“ହେ ଛେଳିଭାଇ, ତୁମେ ମୋତେ ଜିତିଗଲା ।”


**ଏବେ ତଳ ପ୍ରଶ୍ନମାନଙ୍କର ଉତ୍ତର ଲେଖ ।**

- (କ) ମାଙ୍କଡ଼ ଓ ଛେଳି ମଧ୍ୟରୁ କାହାର ଓଜନ ଅଧିକ ? \_\_\_\_\_
- (ଖ) ମାଙ୍କଡ଼ ଓ ବିଲେଇ ମଧ୍ୟରୁ କାହାର ଓଜନ ଅଧିକ ? \_\_\_\_\_
- (ଗ) ବିଲେଇ ଓ ଛେଳି ମଧ୍ୟରୁ କାହାର ଓଜନ ଅଧିକ ? \_\_\_\_\_
- (ଘ) ମାଙ୍କଡ଼ର ଓଜନ କେତୋଟି ବିଲେଇର ଓଜନ ସହ ସମାନ ? \_\_\_\_\_
- (ଙ) ଛେଳି, ବିଲେଇ ଓ ମାଙ୍କଡ଼ ମଧ୍ୟରୁ କାହାର ଓଜନ ଅଧିକ ? \_\_\_\_\_
- (ଚ) ତିନୋଟି ବିଲେଇର ଓଜନ ମିଶି ଛେଳିର ଓଜନଠାରୁ ଅଧିକ କି ? \_\_\_\_\_



**ଛୋଟୁ - ମୋଟୁଙ୍କ କଳି :**

ଛୋଟୁ ଓ ମୋଟୁ ରାସ୍ତାରେ ଯାଉଥିଲେ ।  
 ବାଟରେ ଗୋଟିଏ ବସ୍ତା ପାଇଲେ ।  
 ବସ୍ତାଭିତରେ ଥିଲା କେତେଗୁଡ଼ିଏ ମୂଳା ।



ଦୁଇଜଣଙ୍କ ମଧ୍ୟରେ ଲାଗିଲା କଳି ।



ମୁଁ ବଡ଼ ମୂଳା ନେବି ।

ନାଁ, ମୁଁ ଯେହେତୁ ବଡ଼ ,  
 ମୁଁ ବଡ଼ ମୂଳା ନେବି ।



ଦୁଇଜଣଙ୍କ ମଧ୍ୟରେ ମୂଳାକୁ ସମାନ ଭାଗ କରିବାକୁ ପଡ଼ିବ ।  
 କେତେଗୁଡ଼ିଏ ବଡ଼ ମୂଳା ଅଛି ଓ କେତେଗୁଡ଼ିଏ ସାନମୂଳା ଅଛି ।  
 ଆମେ କ'ଣ କରିବା ?


ଦୁଇଜଣଙ୍କ ମଧ୍ୟରେ ସମାନଭାଗ କରିବା ପାଇଁ ମେଣ୍ଟା ଗୋଟିଏ ଜିନିଷ ଆଣିଲା ।

ମେଣ୍ଟା କ'ଣ ଆଣିଥିଲା ତୁମେ କହିପାରିବ କି ?  
 ମେଣ୍ଟା ଗୋଟିଏ ନିକିତି ଆଣିଥିଲା ।  
 ତାହାଣପାଖ କୋଠରି ମଧ୍ୟରେ  
 ଗୋଟିଏ ନିକିତିର ଚିତ୍ର ତିଆରି କର ।



● ତଳ ଚିତ୍ର ଦେଖ, ଯାହାର ଓଜନ ବେଶୀ, ତା'କୁ ରଙ୍ଗ ଦିଅ ।



(କ)




(ଖ)



(ଗ)



(ଘ)



ତୁମେ ଘର ପାଖ ଦୋକାନକୁ ଯାଇଥିବ ।

ଦୋକାନୀ ନିକିତିରେ ଜିନିଷ ଓଜନ କରିବାର ଦେଖିଥିବ ।

ଦୋକାନୀ ନିକିତିରେ କେଉଁ ସବୁ ଜିନିଷ ଓଜନ କରେ ଲେଖ ।



.....  
.....  
.....  
.....

ଦିଆଯାଇଥିବା ଚିତ୍ରକୁ ଦେଖ । ଏହା ଏକ ତରାଜୁର ଚିତ୍ର ।

ତରାଜୁର ଦୁଇଟି ପଲା ଅଛି ।

ଡାହାଣପଟ ପଲାରେ ଗୋଟିଏ କ୍ରିକେଟ ବ୍ୟାଟ୍ ରଖାଯାଇଛି ଓ ବାମପଟ ପଲାରେ ଗୋଟିଏ କ୍ରିକେଟ ବଲ୍ ଅଛି ।

- ତରାଜୁର କେଉଁ ପଟ ପଲାଟି ତଳକୁ ଅଛି ?
- କ୍ରିକେଟ ବ୍ୟାଟ୍ ଓ କ୍ରିକେଟ ବଲ୍ ମଧ୍ୟରୁ କାହାର ଓଜନ ଅଧିକ ?



- ତୁମ ବିଦ୍ୟାଳୟରେଥିବା ତରାଜୁଟିକୁ ନିଅ ।
- ତରାଜୁଟିର ବାମପଟ ପଲାରେ ଖଣିଏ ଭଟା ପକାଅ ।
- ତୁମେ ଦେଖିବ ଯେ, ତରାଜୁର ବାମପଟ ପଲା ତଳକୁ ହୋଇ ଯାଇଛି ।
- କେତେଗୁଡ଼ିଏ ଗୋଡ଼ି ଡାହାଣ ପଟ ପଲାରେ ପକାଅ, ଯେପରି ଜଟାଖଣ୍ଡର ଓଜନ ସହ ସେଗୁଡ଼ିକର ଓଜନ ସମାନ ହେବ ।
- ଡାହାଣ ପଟ ପଲାରେ କେତୋଟି ଗୋଡ଼ି ପକାଇଲ ଗଣି ଲେଖ ।

ଅଭ୍ୟାସ କାର୍ଯ୍ୟ

୧.



(କ) ଏମାନଙ୍କ ମଧ୍ୟରୁ କିଏ ନଇ ପାରି ହୋଇ ପାରିବ ?

.....

(ଖ) କାହାର ଓଜନ ବେଶୀ ?

.....

(ଗ) କାହାର ଓଜନ କମ ?

.....

୨.



(କ) ଏ ଦୁଇଟିରୁ ତୁମେ କାହାକୁ ଉଠାଇ ପାରିବ ?

.....

(ଖ) କେଉଁଟିକୁ ଉଠାଇ ପାରିବ ନାହିଁ ?

.....

(ଗ) କାହାର ଓଜନ ବେଶୀ ?

.....

(ଘ) କାହିଁକି ଉଠାଇପାରିବ ନାହିଁ କୁହ ।

୩. କେଉଁ ପଶୁ କେଉଁ ଜିନିଷକୁ ବୋହି ନେଇ ପାରିବ ? ଗାର ଟାଣି ଯୋଡ ।



୪. ଚରାକୁର ଗୋଟିଏ ପଟ ପଲ୍ଲୀରେ ଥରକୁ ଥର ଡ଼ଝର, କଲମ, ପେନ୍‌ସିଲ, ଚକ୍ ରଖି ଅନ୍ୟପଟେ ପଲ୍ଲୀରେ ତେତୁଳି ମଞ୍ଜି ପକାଅ । କେତୋଟି ତେତୁଳି ମଞ୍ଜି ପକାଇଲେ ଚରାକୁର ଦୁଇଟି ଯାକ ପଲ୍ଲୀ ଭୂମିଠାରୁ ସମାନ ଉଚ୍ଚତାରେ ରହିବ ଗଣି ଲେଖ ।

ଜିନିଷର ନାମ	ତେତୁଳି ମଞ୍ଜିର ସଂଖ୍ୟା
ଡ଼ଝର	..... ଟି ତେତୁଳି ମଞ୍ଜି
କଲମ	..... ଟି ତେତୁଳି ମଞ୍ଜି
ପେନ୍‌ସିଲ	..... ଟି ତେତୁଳି ମଞ୍ଜି
ଚକ୍	..... ଟି ତେତୁଳି ମଞ୍ଜି
ଗଣିତ ଖାତା	..... ଟି ତେତୁଳି ମଞ୍ଜି

